

Pôle d'activité n°1 : Préparation et clôture de l'opération de transport

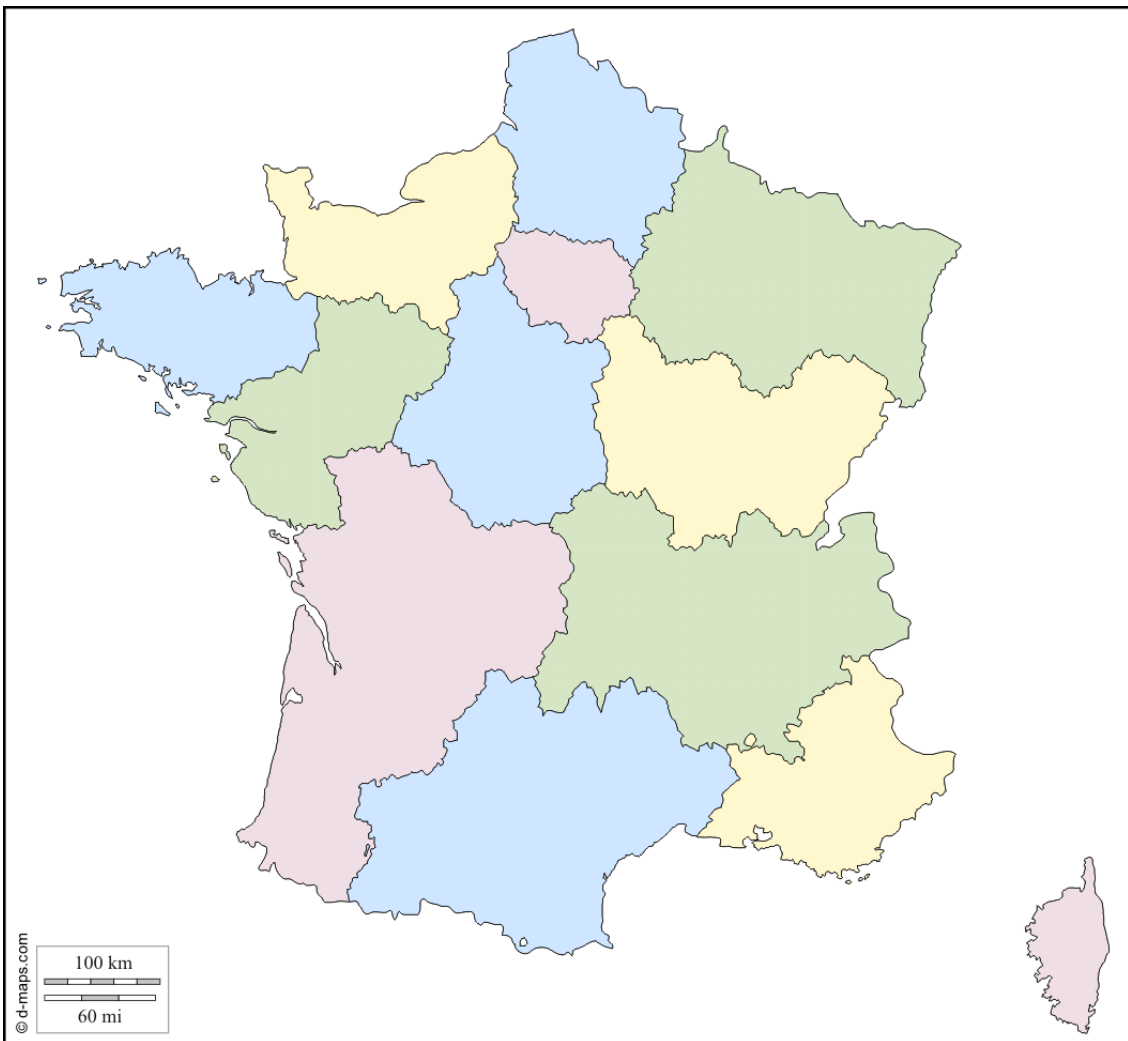


Géographie nationale

Je m'exerce...

Exercice 1 : Localisez et positionnez, par leur numéro, les régions métropolitaines, sur la carte ci-dessous :

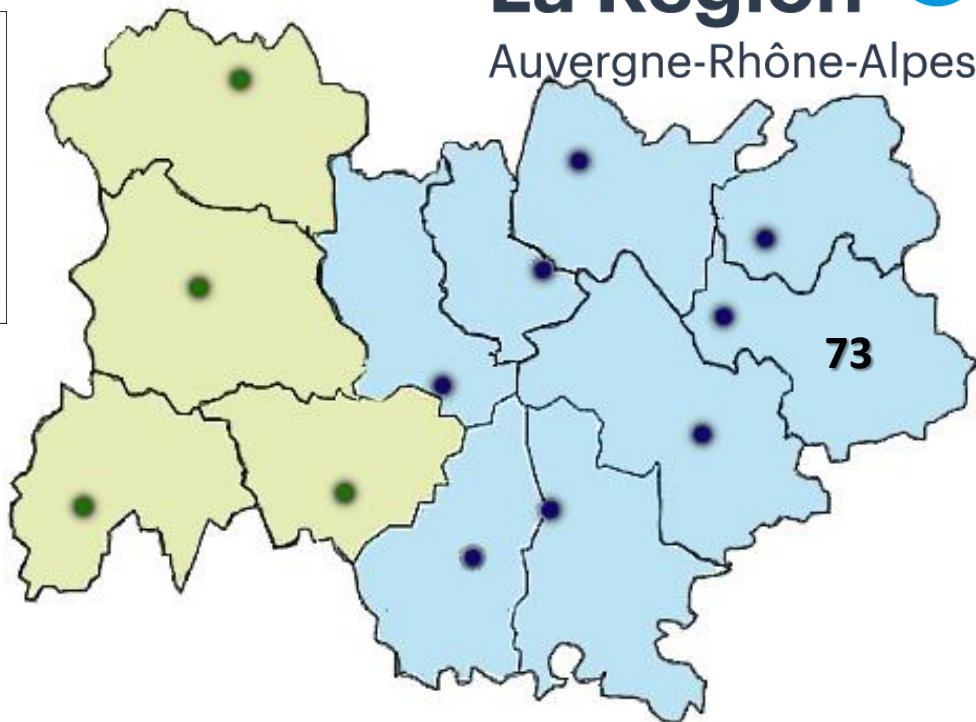
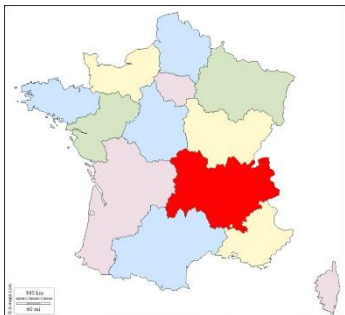
- | | |
|-----------------------------|----------------------------------|
| ① Auvergne - Rhône Alpes | ⑦ Hauts de France |
| ② Bourgogne - Franche Comté | ⑧ Normandie |
| ③ Bretagne | ⑨ Nouvelle Aquitaine |
| ④ Centre Val de Loire | ⑩ Occitanie |
| ⑤ Corse | ⑪ Pays de la Loire |
| ⑥ Grand Est | ⑫ Provence - Alpes - Côte d'Azur |
| | ⑬ Ile de France |



Exercice 2 : Localisez et positionnez les numéros des départements de la région Auvergne – Rhône-Alpes sur la carte ci-dessous et complétez le tableau en indiquant le nom du département et de son chef lieu :

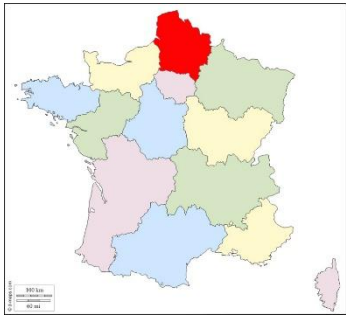
La Région

Auvergne-Rhône-Alpes

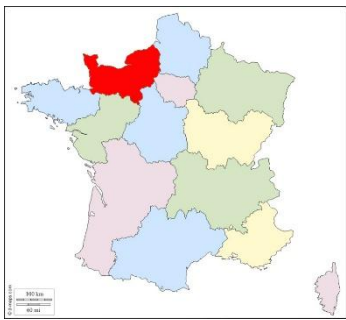


01		
03	ALLIER	Moulins
07	ARDECHE	Privas
15	CANTAL	Aurillac
26		
38		
42	LOIRE	St Etienne
43	HAUTE LOIRE	Le Puy en Velay
63	PUY DE DOME	Clermont Ferrand
69		
73		
74		

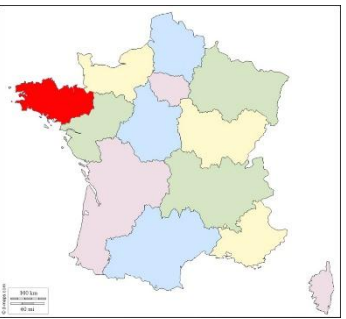
Exercice 3 : complétez les tableaux suivants en indiquant le nom de la région, du département et de son chef lieu :



Région		
02		
59		
60		
62		
80		



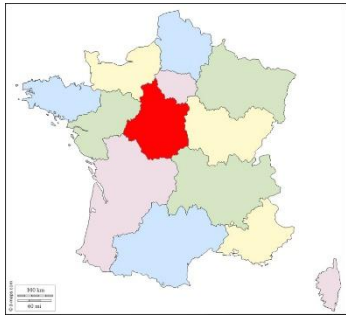
Région		
14		
27		
50		
61		
76		



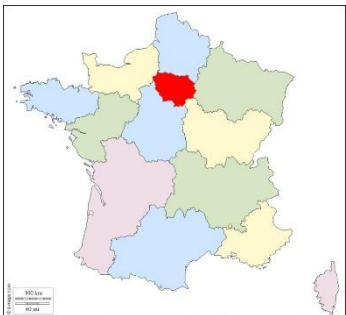
Région		
22		
29		
35		
56		



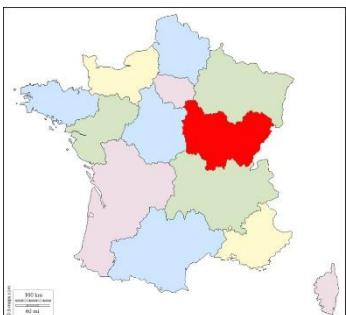
Région		
44		
49		
53		
72		
85		



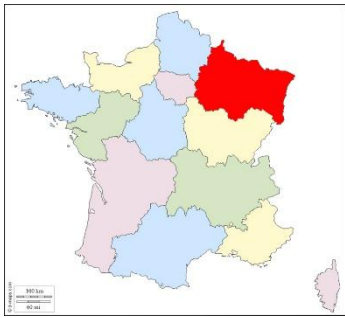
Région		
18		
28		
36		
37		
41		
45		



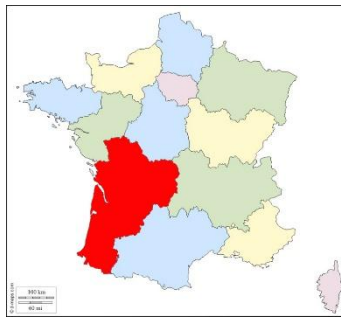
Région		
75		
77		
78		
91		
92		
93		
94		
95		



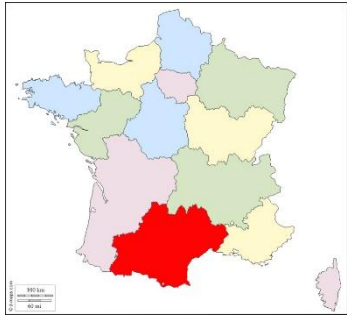
Région		
21		
25		
39		
58		
70		
71		
89		
90		



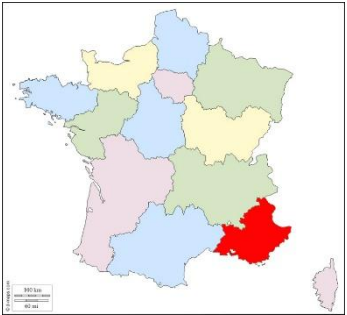
<i>Région</i>		
08		
10		
51		
52		
54		
55		
57		
67		
68		
88		



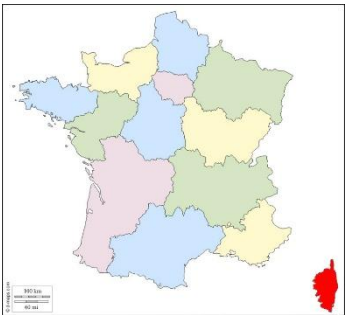
<i>Région</i>		
16		
17		
19		
23		
24		
33		
40		
47		
64		
79		
86		
87		



<i>Région</i>		
09		
11		
12		
30		
31		
32		
34		
46		
48		
65		
66		
81		
82		



<i>Région</i>		
04		
05		
06		
13		
83		
84		



<i>Région</i>		
2A		
2B		



Exercice 4 : Complétez la carte de France donnée en ressource en positionnant les principales villes françaises suivantes :

- | | | | | |
|-----------|------------------|-------------|-----------|------------|
| Amiens | Clermont Ferrand | Limoges | Nice | Strasbourg |
| Brest | Dijon | Lyon | Paris | Toulon |
| Bayonne | Grenoble | Marseille | Perpignan | Toulouse |
| Bordeaux | La Rochelle | Montpellier | Rennes | |
| Calais | Le Havre | Nancy | Reims | Bastia |
| Cherbourg | Lille | Nantes | Rouen | Ajaccio |

